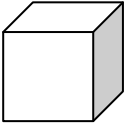




ISPIT PREDZNAJJA

1. Napiši imena geometrijskih tijela :

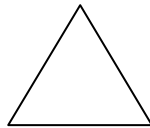


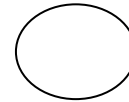




2. Napiši imena geometrijskih likova :







3.

A .
crtom .

. B

Točke A i B spoji ravnom

4.

C .
zakrivljenom crtom .

. D

Točke C i D spoji

5. Napiši znamenkama brojeve :

peti _____ deset _____ sedamnaest _____ trinaesti _____

Chiara

6. U kvadratiće :

$7 + 8 = \square$

$6 + \square = 11$

$\square + 3 = 19$

$16 + 3 = \square$

$12 + \square = 17$

$\square + 16 = 20$

$2 + 7 = \square$

$4 + \square = 10$

$\square + 6 = 9$

7. Popuni kvadratiće upiši broj koji nedostaje :

$14 - 6 = \square$

$15 - \square = 7$

$\square - 7 = 13$

$19 - 11 = \square$

$17 - \square = 6$

$\square - 7 = 9$

$8 - 5 = \square$

$7 - \square = 2$

$\square - 8 = 2$

8. Usporedi brojeve (stavi znak <, > ili =)

$0 \bigcirc 3 \quad 19 \bigcirc 19 \quad 13 \bigcirc 12 \quad 14 \bigcirc 4$

9. Dopuni :

$1 \text{ D } 4 \text{ J } = \underline{\quad}$

$20 = \underline{\quad} \text{ D } \underline{\quad} \text{ J}$

$0 \text{ D } 8 \text{ J } = \underline{\quad}$

$7 = \underline{\quad} \text{ D } \underline{\quad} \text{ J}$

10. Koliki je zbroj ako su pribrojnici 5 i 8 ?

Rad : _____

Odgovor : _____

11. Koji je broj za 5 manji od 13 ?

Rad : _____

Odgovor : _____

Chiara

12. Izračunaj umanjenik ako je umanjitelj broj 7 , a razlika broj 5 .

Rad : _____

Odgovor : _____

13. Maja mora naoštriti 14 bojica . Do sada ih je naoštrila 6 . Koliko bojica još treba naoštriti ?

Rad : _____ Odgovor :

14. Izračunaj redom kojim je napisano :

$$5 + 6 + 4 = \underline{\hspace{2cm}}$$

$$20 - 7 - 9 = \underline{\hspace{2cm}}$$

15. Ivica ima 8 olovaka , a Ana 3 olovke više . Koliko olovaka ima Ana ?

Rad : _____ Odgovor :

Koliko olovaka imaju zajedno ?

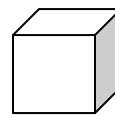
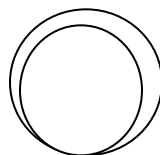

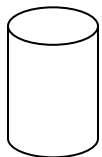
Rad : _____

Odgovor : _____

Gradivo 1.razreda

Ime:

1. Imenuj geometrijska tijela.





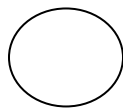
.....

2. S koliko ploha je omeđena kocka?

3. Kakve plohe omeđuju valjak?

.....

4. Imenuj geometrijske likove.



.....

5. S koliko je crta omeđen trokut?

6. Kakvom crtom je omeđen krug?

7. Nacrtaj


a) ravnu crtu

b) izlomljenu crtu i

c) zakrivljenu crtu.

8. Ravne crte crtamo uz pomoć

9. Nacrtaj jednu točku **unutar** crte i jednu točku **izvan** crte.



10. Spoji točke A i B ravnom crtom (koristi ravnalo).

x
A

x
B

Gradivo 1.razreda (2.dio)

Ime:

1. Napiši brojeve riječima.

1	6	15
12	19	0
4	7	14

2. Napiši brojkama i matematičkim znakovima.

dva je veći od jedan

jedan je jednako jedan

petnaest je veći od dvanaest

šesnaest je jednak šesnaest

jedanaest je manji od trinaest

četiri je veći od tri

3. Napiši najveći jednoznamenasti broj.....

Napiši najmanji dvoznamenkasti broj

4. Riješi zadatke.

$2 + 3 =$

$5 + 8 =$

$4 - 2 =$

$13 - 2 =$

$4 + 6 =$

$14 + 2 =$

$7 - 7 =$

$17 - 8 =$

$4 + 9 =$

$14 + 6 =$

$10 - 9 =$

$20 - 9 =$

$8 + 9 =$

$18 + 0 =$

$18 - 12 =$

$16 - 14 =$

5. U razredu je 12 dječaka i 8 djevojčica. Koliko učenika ima 2.b ?

R:

O:

6. U jednakosti $8 + 7 = 15$, broj 8 je _____, broj 7 je isto _____,

a 15 je _____.

7. Rukometna ekipa je u prvom poluvremenu postigla 13 golova, a u drugom 4 manje. Koliko golova je postigla u drugom poluvremenu?

R:

O:

8. U jednakosti $10 - 7 = 3$, broj 10 je _____, broj 7 je _____,

a 3 je _____.

9. Izračunaj razliku ako je umanjenik broj 13, a umanjitelj broj 8.

R:

10. Napiši redne brojeve između 3. i 7. riječima.

.....